



PARCOURS D'ORIENTATION PATRIMOINE adulte

À LA DÉCOUVERTE DE L'ÉGLISE ET DES 7 CHÂTEAUX DE SAINT GEOIRE EN VALDAINE



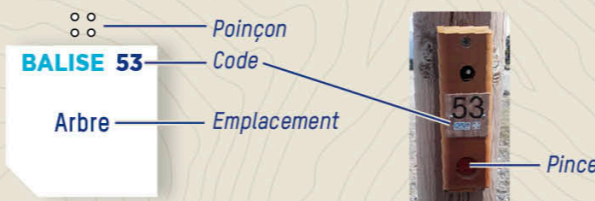
ST GEOIRE EN VALDAINE

Situé dans le triangle Lyon, Grenoble, Chambéry, Saint-Geoire en Valdaine vous accueille au sein de la vallée de l'Ainan dans un cadre de vie propice aux balades historiques, sportives ou même gourmandes ! La commune regroupe sept châteaux et une église qui date du 11^{ème} siècle. Les 2400 Saint-Geoiriens y sont très attachés et participent tous à la bonne marche de ce village dynamique et plein de vie avec ses commerces, ses nombreuses associations et ses infrastructures sportives. Saint-Geoire en Valdaine est aussi le point de départ de plusieurs randonnées et parcours trail ou VTT.

Après la découverte du parcours d'orientation, que les plus gourmands se rassurent, la biscuiterie, la brasserie et les autres commerces du village sauront vous combler !

COMMENT ÇA MARCHE ?

- 1- Orienter la carte et repérer le départ.
- 2- Choisir un itinéraire pour aller du départ à la balise 1.



- 3- Utiliser la pince pour poinçonner.
- 4- Répondre à la question du dépliant.
- 5- Continuer vers les balises suivantes en respectant l'ordre.

Bonne découverte !

RECOMMANDATIONS

- Soyez discrets, des personnes vivent et travaillent au quotidien.
- Restez sur les itinéraires, ne coupez pas à travers les champs.
- Respectez les aires de stationnement et la réglementation.
- Ramassez vos déchets, ne laissez rien sur site.
- Soyez vigilant à la circulation dans Saint-Geoire en Valdaine. Surveillez vos enfants. Utilisez les passages piétons.
- **SECOURS** : En cas de danger, appelez le 112 et donnez la position exacte de l'accidenté.



L'application Suricate permet de signaler les problèmes que vous rencontrez lors de la pratique d'un sport de nature (erreur de balisage, besoin de sécurisation...)

INFORMATIONS

- **COMMUNE DE ST GEOIRE EN VALDAINE**
www.saint-geoire-en-valdaine.com
- **OFFICE DU TOURISME PAYS VOIRONNAIS**
www.paysvoironnais.info
- **COMITÉ DÉPARTEMENTAL DE COURSE D'ORIENTATION**
www.cdco38.f

Toutes les activités outdoor de l'Isère sont accessibles depuis OUTDOOR

Application mobile téléchargeable sur



BALISE 51
Haut des escaliers

1 CHÂTEAU DE LA LAMBERTIÈRE

C'est la famille de Guillaume Dode, né à Saint-Geoire en 1775, qui fit construire le Château de La Lambertière, que vous pouvez voir au loin. Rayez dans la grille, les mots ci-dessous, en lien avec la vie de Dode. Grâce aux lettres restantes, reconstituez ensuite le mot mystère pour trouver la plus haute distinction de celui qui commença comme Lieutenant sous Napoléon Bonaparte.

Attention, une lettre peut être commune à plusieurs mots et les mots peuvent être aussi écrits de droite à gauche et de bas en haut.

- | | | | |
|-----------|-----------|-------------|----------|
| NAPOLÉON | EMPIRE | HONNEUR | DODE |
| BATAILLES | GUILLAUME | LAMBERTIÈRE | EGYPTE |
| RHIN | ALLEMAGNE | VICOMTE | BRUNERIE |
| TUILES | ESPAGNE | VAUBAN | |
| CHÂTEAU | MALTE | | |


Réponse : _____

C	N	O	E	L	O	P	A	N	H	D
H	O	N	N	E	U	R	H	I	N	O
A	S	E	L	L	I	A	T	A	B	D
T	A	A	L	L	E	M	A	G	N	E
E	N	T	U	I	L	E	S	C	A	R
A	A	B	R	U	N	E	R	I	E	I
U	B	R	E	N	G	A	P	S	E	P
G	U	I	L	L	A	U	M	E	E	M
L	A	M	B	E	R	T	I	E	R	E
V	I	C	O	M	T	E	M			L
E	T	P	Y	G	E	T	L	A	M	

BALISE 52
Mur

2 CHÂTEAU DE MONTCLA

Sur les 2 tours du Château, vous pouvez observer une fente verticale avec un orifice sur la partie inférieure. Appelée communément meurtrière, elle servait à se défendre contre l'éventuelle attaque d'un ennemi.



Quelles armes pouvaient donc être employées ? (Plusieurs réponses possibles)

- A. Une sarbacane B. Un arc
C. Une arbalète D. Une arme à feu

BALISE 53
Barrière

3 L'ÉGLISE SAINT GEORGES

Voici le logo du village, composé de 3 anges formant un triskèle. Sur quelle partie extérieure de l'église peut-on le retrouver sous la forme d'un vitrail ?

- A. L'abside (partie arrondie de l'église)
B. La sacristie (partie latérale de l'église)
C. Le porche (entrée)
D. La face sud



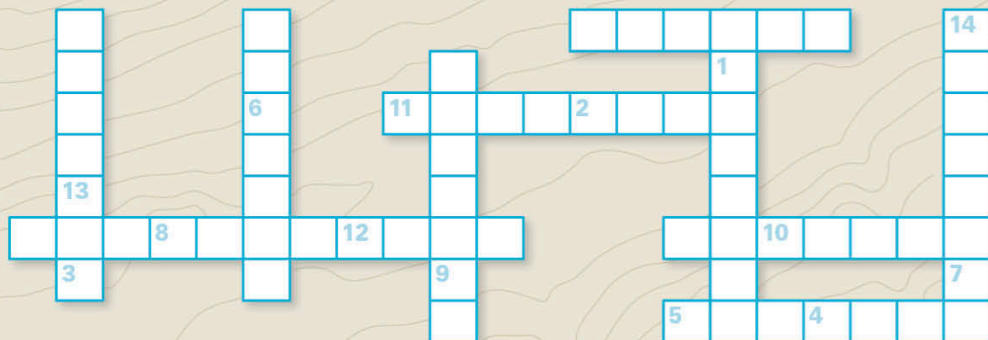
BALISE 54

Clôture

4 CHÂTEAU DE CABAROT

Replacez les mots suivants dans la grille, puis remettez dans l'ordre les lettres numérotées afin de trouver un célèbre artiste peintre et céramiste à qui a appartenu le château de Cabarot, et dont vous pouvez apprécier quelques œuvres au Musée Dauphinois de Grenoble.

Cabarot, Couvent, Château, Longpra, Etergne, Moncla, Lambertièrre, Clermont, Rochette, Valdaine



1 2 3 4 5 6 7 8 9 10 11 12 13 14

BALISE 55

Extrémité du chemin

5 CHÂTEAU DE CLERMONT

Le château de Clermont a été largement remanié à partir d'une ruine médiévale par la famille Michal-Ladichère après 1870. Cette famille d'industriels originaires de Grenoble a utilisé la force motrice de l'eau et la main-d'œuvre locale dans un domaine particulier. Lequel ?

A. Les papeteries B. Les cimenteries C. Les usines de tissage

BALISE 56

Angle du mur

6 CHÂTEAU DE LA ROCHETTE

Tournez le dos au portail et regardez la maison face à vous. Ses murs sont, sur la partie basse, construits en pierre. La partie haute est composée de terre prélevée à proximité.

Comment s'appelle ce type de construction que l'on retrouve beaucoup dans la région ?

A. Le béton banché B. Le pisé C. L'adobe

BALISE 57

Angle de clôture

7 CHÂTEAU DE L'ETERGNE

À la fin du Moyen Âge, on commence à construire des maisons fortes comme celle de l'Etergne. Elles se distinguent des châteaux de par leurs moins importantes fortifications.

Alors que le Seigneur réside dans son château, à qui sont destinées ces maisons fortes ? (Plusieurs réponses possibles)

A. Les chevaliers B. Les religieux C. Les écuyers
D. Les cadets des familles nobles E. Les serviteurs

BALISE 58

Extrémité du chemin

8 LE PIC ÉPEICHE

Ces trous visibles dans les arbres face à vous sont l'œuvre du pic épeiche. Grâce à son bec puissant et pointu, il donne des coups sur l'écorce des arbres afin de trouver des insectes cachés à l'intérieur des troncs.

Sa langue lui permet de harponner sa proie car elle :

A. est collante. B. est munie de petits crochets sur sa pointe.
C. est collante et munie de petits crochets sur sa pointe.

**PARCOURS D'ORIENTATION**

DIFFICULTÉ EN ORIENTATION FACILE | ACCÈS 4 SAISONS

4,5 KM | +/- 1 H 30 | +130 M | 10 BALISES



Échelle : 1/6000e
1 cm représente : 60 m sur le terrain
Dénivelé entre 2 courbes de niveau : 5 mètres

△ Départ : depuis le parking de la combe Versoud
○ Balise
P Parking

LEGENDE

■ Bâtiment	— Portail
■ Propriété privée	○ x Objets particuliers
■ Parking	■ Pelouse
— Route	— Ruisseau / Fontaine
— Chemin / sentier	— Forêt, traversée facile
— Escalier	— Végétation
— Mur	— Courbe de niveau
○ Arbre isolé	— Haie

9 CHÂTEAU DE LONGPRA

Quel est ce massif montagneux se trouvant face à vous, qui délimite le Val d'Ainan ?

A. Belledonne B. La Chartreuse
C. Le Vercors

BALISE 59

Poteau

10 LA VIEILLE FORGE

Remettez les lettres dans le bon ordre afin de retrouver le métier de celui qui vivait ici :

MARCHA FRATERNEL

BALISE 60

Fontaine



Échelle du zoom : 1/3500°
1 cm représente : 35 m sur le terrain



Carte de course d'orientation - 2021 / Réalisée par Franck Dechavanne / La reproduction de l'ensemble des supports cartographiques est autorisée pour l'usage unique de ce parcours permanent d'orientation et à l'exclusion de tout autre usage. Cet équipement a été mis en place avec l'assistance technique de la Ligue Auvergne Rhône Alpes de course d'orientation / Édition 2023

Réponses aux questions :

1-Marechal; 2-A; 3-C; 4-Laurent Bouvier; 5-C; 6-B; 7-A; 8-B; 9-B; 10-Marchal-Ferrant